

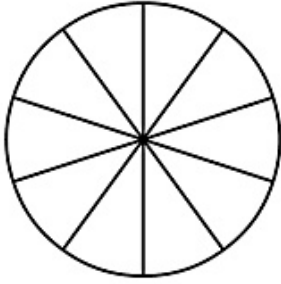
مجمع الرياضيات

الكسور في دوائر

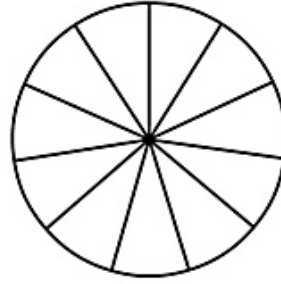
الصف : _____

اسم الطالب : _____

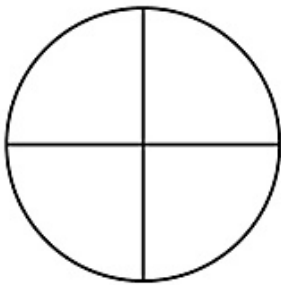
لون الكسر في الدائرة بحسب الكسر المسجل بجانبها



$$\frac{7}{10}$$



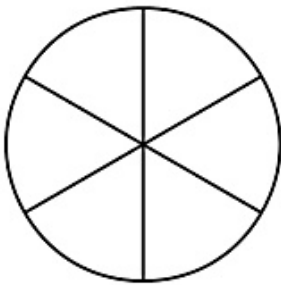
$$\frac{1}{11}$$



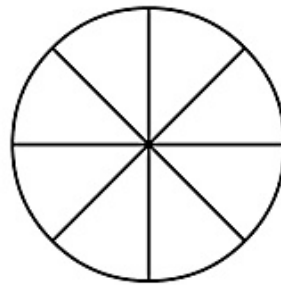
$$\frac{1}{4}$$



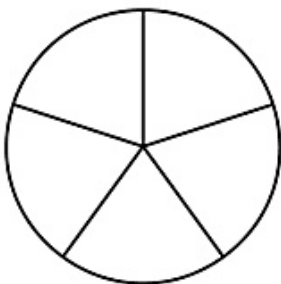
$$\frac{3}{3}$$



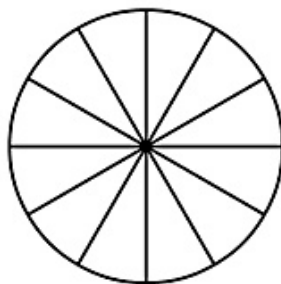
$$\frac{5}{6}$$



$$\frac{3}{8}$$



$$\frac{3}{5}$$



$$\frac{4}{12}$$

طباعة