





















لوحة الرموز - جمع كسور

بين الرموز التالية تم تنفيذ عملية الجمع للحصول على النتيجة في الصف وفي العمود، حاول ايجاد قيمة الرموز ، اكتب التمارين التي وصلتك الى الحل

				$1\frac{5}{8}$
				2
				$1\frac{5}{8}$
				$2\frac{2}{8}$
$2\frac{3}{4}$	$\frac{7}{8}$	$1\frac{7}{8}$	2	

 =	 =	 =	 =
---	---	---	---