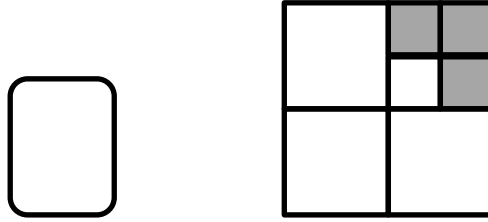


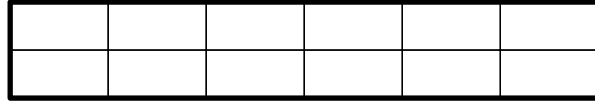
تمارين مراجعة في موضوع الكسور للصف الخامس

الاسم: _____

1. ما هو الجزء الملون من المربع؟




2. لون $\frac{5}{6}$ المستطيل.



3. حوِّط $\frac{2}{5}$ الزهرات.

كم زهرة حوطت؟ _____



4. حل التمارين التالية :

أ) $\frac{3}{5} + \frac{1}{4} =$

ب) $\frac{2}{3} - \frac{1}{8} =$

ج) $2\frac{2}{9} - \frac{7}{9} =$

د) $1\frac{1}{5} + \frac{8}{10} =$

هـ) $2.08 + 4.89 =$ _____

و) $5 - 1.73 =$ _____

ز) $3.15 - 2.77 =$ _____

5. أكمل :

أ) $\frac{1}{7}$ أـ 350 يساوي : _____

ب) $\frac{4}{9}$ أـ 540 يساوي : _____

ج) $\frac{2}{3}$ أـ 270 يساوي : _____

6. اشترت ليينا 5 اكياس جبنة ، وزن كل كيس 200 غرام ، استعملت لتحضير

البيتسا $\frac{3}{4}$ الكمية التي اشترتها.

أ) كم غرام جبنة استعملت ليينا ؟ _____

ب) كم غرام جبنة بقي ؟ _____

7. أكمل اعداد ملائمة :

$$\frac{\square}{6} + \frac{\square}{6} = 1\frac{1}{2}$$

8. أكمل :

$$\text{أ) } 3 - \square = 1\frac{3}{5}$$

$$\text{ب) } 1 + \square = \frac{10}{7}$$

$$\text{ج) } \frac{1}{4} - \square = \frac{1}{12}$$

$$\text{د) } \frac{7}{35} = \frac{\quad}{15}$$

$$\text{هـ) } \frac{3}{8} = \frac{\quad}{32}$$

9. بكم ينقص $1\frac{1}{6}$ عن $5\frac{1}{3}$ ؟

الأجابة : ينقص بـ _____

10. بكم يزيد 6 عن $2\frac{1}{5}$ ؟

الأجابة : يزيد بـ _____

11. أي كسر هو الأكبر من الكسور التالية؟

$$\frac{4}{5} , \frac{5}{6} , \frac{6}{7}$$

الجواب :

علّل اجابتك :

12. أ) أكتب كسرًا يقع بين $\frac{1}{2}$ و $\frac{1}{3}$.

ب) أكتب كسرًا يقع بين $\frac{5}{6}$ و $\frac{5}{8}$.

13. مساحة الارض التابعة لعدنان هي 1,200 متر مُربّع ، زرع عدنان

$\frac{5}{6}$ من ساحة الأرض . قال عدنان لقد زرعت دونم من الارض .

هل ادعاء عدنان صحيح ؟ _____

علّل اجابتك:

14. أكمل المتواليات بقفزات متساوية :

أ) 1.23 , 1.32 , 1.41 , _____ , _____ , _____

ب) 9.45 , 8.30 , 7.15 , _____ , _____ , _____