


## الكسور

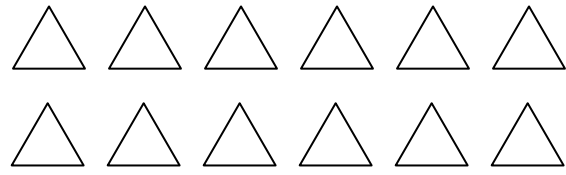

الأسم : \_\_\_\_\_

لوّن قسم من المجموعة حسب الكسر المُعطى واكتب الكمية الملائمة للكسر :



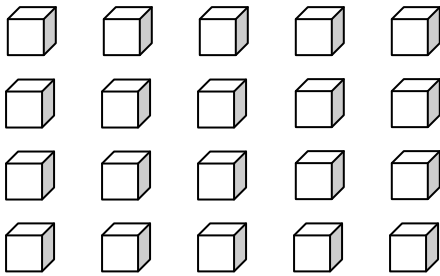
$\frac{2}{5}$  الدوائر يساوي \_\_\_\_\_ دوائر

$\frac{4}{6}$  النجوم يساوي \_\_\_\_\_ نجوم



$\frac{7}{10}$  الهلال يساوي \_\_\_\_\_ هلالاً

$\frac{2}{3}$  المثلثات يساوي \_\_\_\_\_ مثلث



$\frac{3}{10}$  المكعبات يساوي \_\_\_\_\_ مكعباً

$\frac{3}{4}$  القلوب يساوي \_\_\_\_\_ قلباً