



النسبة المئوية


لونوا في كل جدول حسب النسبة المئوية التي تظهر او حسب الكسر واكملوا الناقص :




النسبة المئوية : _____
الكسر العادي : $\frac{1}{2}$
الكسر العشري : _____




النسبة المئوية : 75%
الكسر العادي : _____
الكسر العشري : _____




النسبة المئوية : 40%
الكسر العادي : _____
الكسر العشري : _____




النسبة المئوية : _____
الكسر العادي : $\frac{3}{8}$
الكسر العشري : _____




النسبة المئوية : 45%
الكسر العادي : _____
الكسر العشري : _____




النسبة المئوية : _____
الكسر العادي : _____
الكسر العشري : 0.32




النسبة المئوية : _____
الكسر العادي : $\frac{11}{20}$
الكسر العشري : _____




النسبة المئوية : _____
الكسر العادي : $\frac{13}{25}$
الكسر العشري : _____




النسبة المئوية : _____
الكسر العادي : _____
الكسر العشري : 0.05




النسبة المئوية : _____
الكسر العادي : $\frac{3}{50}$
الكسر العشري : _____




النسبة المئوية : 2%
الكسر العادي : _____
الكسر العشري : _____




النسبة المئوية : 60%
الكسر العادي : _____
الكسر العشري : _____




النسبة المئوية : _____
الكسر العادي : $\frac{21}{25}$
الكسر العشري : _____




النسبة المئوية : 62.5%
الكسر العادي : _____
الكسر العشري : _____




النسبة المئوية : _____
الكسر العادي : _____
الكسر العشري : 0.27



النسبة المئوية : _____
الكسر العادي : _____
الكسر العشري : 0.15



النسبة المئوية : _____
الكسر العادي : $\frac{1}{5}$
الكسر العشري : _____



النسبة المئوية : _____
الكسر العادي : _____
الكسر العشري : 0.56