

الجمع في مجال الـ 10 – فعالية رقم 1


الصف: _____

الاسم: _____

كم حبة برتقال يوجد على الشجرتين معاً؟ اكملا :


التمرين : $2 + 3 =$ _____

الجواب : _____ حبات برتقال




التمرين : $4 + 5 =$ _____

الجواب : _____ حبات برتقال




التمرين : $1 + 9 =$ _____

الجواب : _____ حبات برتقال



التمرين : $6 + 2 =$ _____

الجواب : _____ حبات برتقال




الجمع في مجال الـ 10 – فعالية رقم 1

الاسم : _____ الصف : _____

كم حبة برتقال يوجد على الشجرتين معاً؟ اكملا :


التمرين : $7 + 3 = \underline{\hspace{2cm}}$

الجواب : _____ حبات برتقال




التمرين : $8 + 1 = \underline{\hspace{2cm}}$

الجواب : _____ حبات برتقال




التمرين : $5 + 2 = \underline{\hspace{2cm}}$

الجواب : _____ حبات برتقال



التمرين : $3 + 4 = \underline{\hspace{2cm}}$

الجواب : _____ حبات برتقال




الجمع في مجال الـ 10 – فعالية رقم 1

الاسم : _____ الصف : _____

كم حبة برتقال يوجد على الشجرتين معًا؟ اكملوا :


التمرين : $1 + 4 = \underline{\quad}$

الجواب : $\underline{\quad}$ حبات برتقال




التمرين : $5 + 5 = \underline{\quad}$

الجواب : $\underline{\quad}$ حبات برتقال



التمرين : $2 + 7 = \underline{\quad}$

الجواب : $\underline{\quad}$ حبات برتقال



التمرين : $3 + 3 = \underline{\quad}$

الجواب : $\underline{\quad}$ حبات برتقال

