





الجمع في مجال الـ 10 – فعالية رقم 2

الاسم : _____ الصف : _____





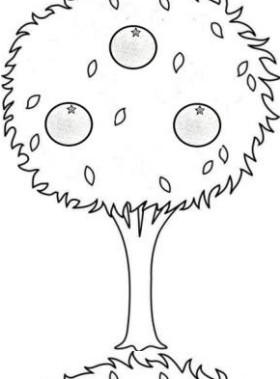



كم حبة برتقال يوجد على الشجرتين معاً؟ اكملا التمرين واكتبوا الجواب:

<p>التمرين : _____ + _____ = _____</p> <p>الجواب : _____ حبات برتقال</p>	
<p>التمرين : _____ + _____ = _____</p> <p>الجواب : _____ حبات برتقال</p>	
<p>التمرين : _____ + _____ = _____</p> <p>الجواب : _____ حبات برتقال</p>	
<p>التمرين : _____ + _____ = _____</p> <p>الجواب : _____ حبات برتقال</p>	

الجمع في مجال الـ 10 – فعالية رقم 2

الاسم : _____ الصف : _____




كم حبة برتقال يوجد على الشجرتين معاً؟ اكمّلوا التمرين واكتبوا الجواب:

_____ + _____ = _____ : التمرين		
الجواب : _____ حبات برتقال		
_____ + _____ = _____ : التمرين		
الجواب : _____ حبات برتقال		
_____ + _____ = _____ : التمرين		
الجواب : _____ حبات برتقال		
_____ + _____ = _____ : التمرين		
الجواب : _____ حبات برتقال		

الجمع في مجال الـ 10 – فعالية رقم 2

الاسم : _____ الصف : _____

كم حبة برتقال يوجد على الشجرتين معاً؟ اكملا التمرين واكتبوا الجواب:

<p>التمرين : _____ + _____ = _____</p> <p>الجواب : _____ حبات برتقال</p>	
<p>التمرين : _____ + _____ = _____</p> <p>الجواب : _____ حبات برتقال</p>	
<p>التمرين : _____ + _____ = _____</p> <p>الجواب : _____ حبات برتقال</p>	
<p>التمرين : _____ + _____ = _____</p> <p>الجواب : _____ حبات برتقال</p>	