





لوحة الرموز في الضرب

الاسم : _____

في اللوحة التالية تم استبدال الاعداد بالرموز ، حاول ان تعرف قيمة كل رمز في اللوحة :

	×		=	42
×		×		
	×		=	36
=		=		
28		54		

الحل :

	=			=	
	=			=	