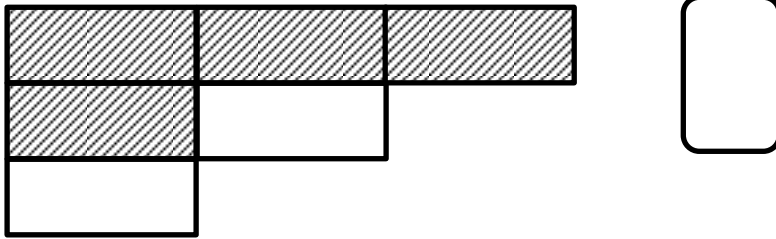


الكسور : المعاني المختلفة للكسر العادي

الاسم: _____ الصف: _____

حل التمارين التالية :


1. ما هو الجزء الملوّن في الشكل ؟




2. لوّن $\frac{1}{3}$ المستطيل :




3. أ. لوّن $\frac{3}{4}$ المُرَبّع




ب. لوّن $\frac{3}{4}$ المُرَبّع بطريقة اخرى تختلف عن البند أ.



4. حوِّط $\frac{1}{5}$ الكرات



5. في أي بند تم تلوين $\frac{1}{4}$ القلوب؟



6. أكمل أعداد ملائمة في كل بند :

أ. $\frac{\square}{6} + \frac{\square}{6} = \frac{1}{2}$

ب. $\frac{\square}{9} - \frac{\square}{9} = \frac{1}{3}$