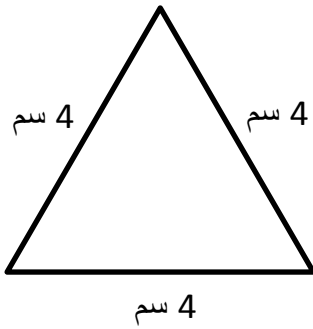


الموضوع : المُضلعات – المحيط

الأسم: _____

احسب محيط المُضلعات التّالية بحسب القياسات المُسجلة :

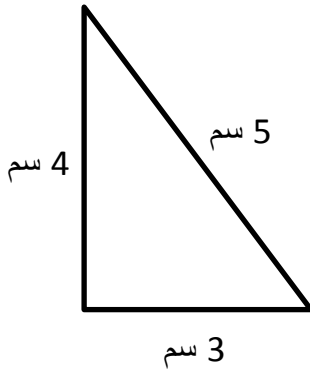
1.



الحساب: _____

المُحيط : _____ سم

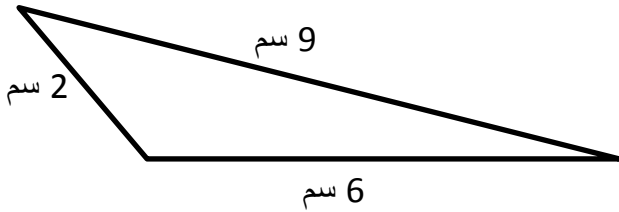
2.



الحساب: _____

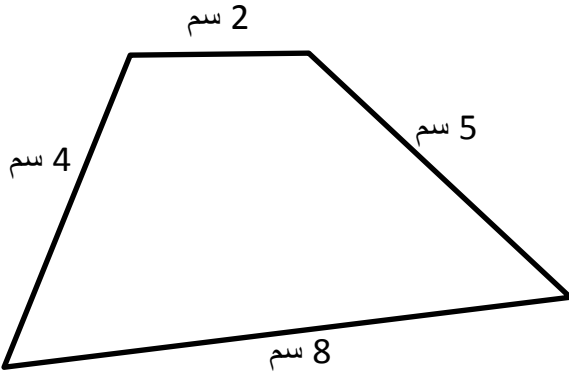
المُحيط : _____ سم

3.



الحساب: _____

المُحيط : _____ سم



.4

الحساب: _____


المُحيط: _____ سم



.5

الحساب: _____

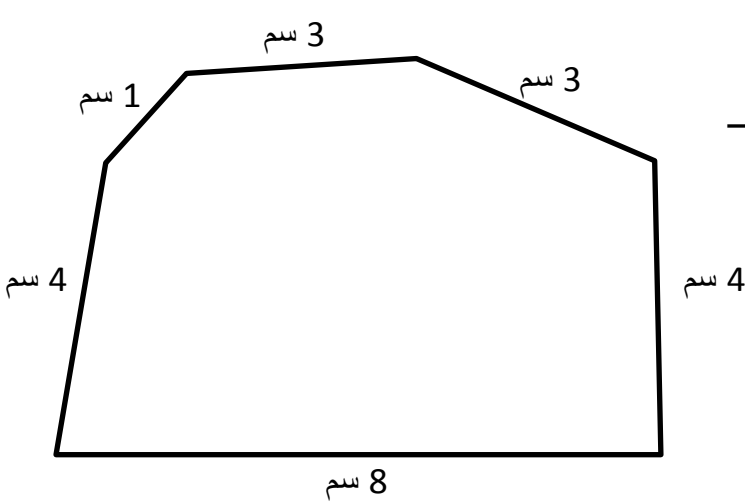
المُحيط: _____ سم



.6

الحساب: _____

المُحيط: _____ سم



.7

الحساب: _____

المُحيط: _____ سم