


فعالية في المساحة

الاسم: _____ الصف: _____

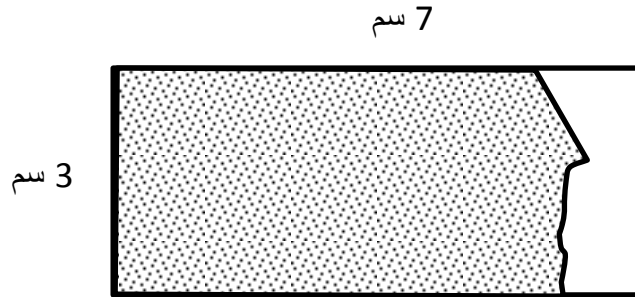
1. مُعطى المُربّع التالي :



أ) احسب المساحة المُظللة :

الجواب : _____ سم²

2. مُعطى الشكل التالي :




ماذا يمكن ان نقول عن المساحة المُظللة؟ (ضع دائرة حول الاجابة الصحيحة)

- أ. تساوي 21 سم²
ب. أكبر من 21 سم²
ج. أصغر من 21 سم²
د. لا يمكن معرفة المساحة المُظللة.

3. معطى المُرَبَّع التالي :

6 سم



ماذا يمكن ان نقول عن المساحة المُظلمة؟ (ضع دائرة حول الاجابة الصحيحة)

ب. اكبر من 18 سم^2
د. اكبر من 9 سم^2

أ. أقل من 9 سم^2
ج. تساوي 12 سم^2

4. مُعطى المُستطيل التالي :

10 سم

2 سم



كم مُستطيل (كما في الشكل أ) يجب ان نستعمل لكي نبني مُربّع ؟ يمكن الاستعانة بالرسم!

الجواب : _____

عملا مُمتعا