

امتحان للصف الاول ابتدائي – الموضوع : القياسات

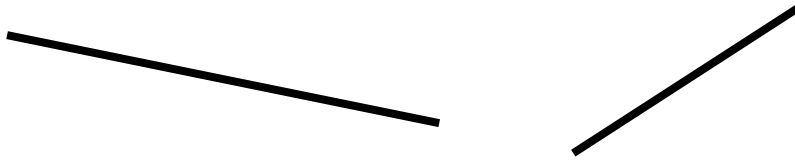
الاسم الكامل : _____ الصف : _____

العلامة : _____

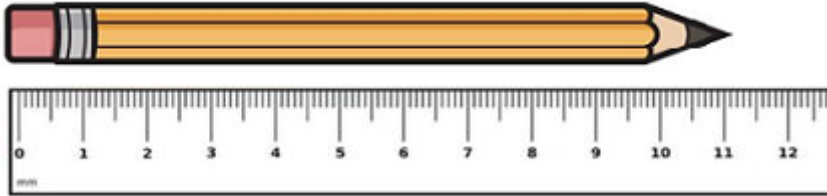
(1) حوِّط القطعة الأطول في كل بند :
(أ)



(ب)



(2) سجل اطول الاقلام بحسب ما هو مسجل على المسطرة في كل رسم :



طول قلم الرصاص هو _____ سنتيمتر



طول قلم الحبر هو _____ سنتيمتر

(3) استعمل المسطرة وسجّل طول القطعة في كل بند :

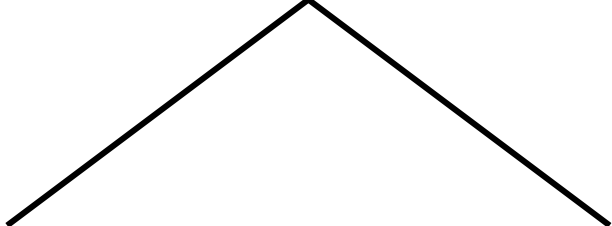
(أ) _____ سنتيمترات 

(ب) _____ سنتيمترات 

(ج) _____ سنتيمترات 

(4) ما هو طول الخط المُنكسر في كل بند ؟

(أ) _____ سم 

(ب) _____ سم 

(5) اكتب صح او خطأ بجانب كل ادعاء :

(أ) طول كتاب الحساب 29 سنتيمتر _____

(ب) طول الباب في البيت 150 سنتيمتر _____

(ت) طول الكأس 8 سنتيمتر _____

(ث) طول زهرة عصا الراعي 70 سنتيمتر _____

(6) اكمل في كل بند طول كل قطعة :



طول القطعة يساوي _____




طول القطعة يساوي _____

(7) سجلوا طول المستطيل في كل بند بحسب الرسم :



طول المُستطيل هو _____ سم



طول المُستطيل هو _____ سم

بالنجاح