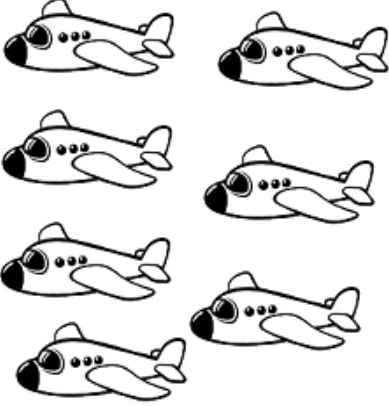
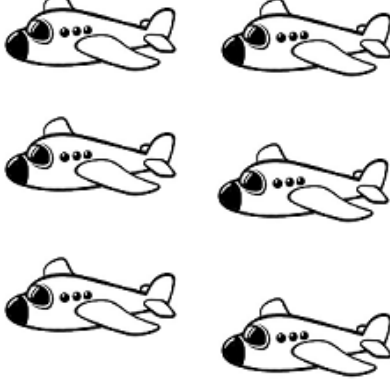






مقارنة اعداد في مجال ال 10 – اصغر من .. اكبر من ..

الاسم : _____ الصف : _____

1. حوط المجموعة التي بها اكبر عدد من الأغراض :

2. اكتب إشارة < (اصغر من) او إشارة > (اكبر من) بين الاعداد التالية:

مثلا : $6 < 9$ نقرأ من اليسار الى اليمين: ستة أصغر من تسعة

$5 > 3$ نقرأ خمسة أكبر من ثلاثة.

$1 \quad \underline{\quad} \quad 4$

$5 \quad \underline{\quad} \quad 2$

$7 \quad \underline{\quad} \quad 8$

$3 \quad \underline{\quad} \quad 1$

$6 \quad \underline{\quad} \quad 3$

$9 \quad \underline{\quad} \quad 4$

3. اكمل عددًا مناسبًا :

$5 < \underline{\quad}$

$3 < \underline{\quad}$

$2 > \underline{\quad}$

$7 > \underline{\quad}$

$6 > \underline{\quad}$

$8 < \underline{\quad}$

$4 < \underline{\quad}$

$1 > \underline{\quad}$

$3 > \underline{\quad}$

$9 < \underline{\quad}$

4. اكمل عددًا مناسبًا :

$1 < \underline{\quad} < 3$

$4 < \underline{\quad} < 6$

$2 < \underline{\quad} < 4$

$7 < \underline{\quad} < 9$

$5 < \underline{\quad} < 7$

$8 < \underline{\quad} < 10$

$3 < \underline{\quad} < 5$

$6 < \underline{\quad} < 8$

$2 < \underline{\quad} < 6$

$5 < \underline{\quad} < 9$

5. اكمل المتواليات التالية :

أ) 1 , 2 , _____ , 4 , 5 , _____ , _____ , 8

ب) 3 , 4 , _____ , 6 , _____ , _____ , 9

ج) _____ , 5 , _____ , 7 , _____

