





مفهوم عملية الضرب

الاسم: _____ الصف: _____


اكمل الناقص في التمارين التالية بحسب الصور في كل بند :




$8 + \underline{\quad} + \underline{\quad} = \underline{\quad}$
 $3 \times \underline{\quad} = \underline{\quad}$




$10 + \underline{\quad} + \underline{\quad} + \underline{\quad} = \underline{\quad}$
 $4 \times \underline{\quad} = \underline{\quad}$




$4 + \underline{\quad} + \underline{\quad} + \underline{\quad} + \underline{\quad} = \underline{\quad}$
 $5 \times \underline{\quad} = \underline{\quad}$



$7 + \underline{\quad} + \underline{\quad} + \underline{\quad} + \underline{\quad} + \underline{\quad} = \underline{\quad}$
 $6 \times \underline{\quad} = \underline{\quad}$



$5 + \underline{\quad} + \underline{\quad} + \underline{\quad} + \underline{\quad} + \underline{\quad} = \underline{\quad}$
 $6 \times \underline{\quad} = \underline{\quad}$



$3 + \underline{\quad} + \underline{\quad} = \underline{\quad}$
 $3 \times \underline{\quad} = \underline{\quad}$

عملاً ممتعاً



للمزيد من المواد في الرياضيات انضم الى قناة مجمع الرياضيات في الواتس اب
اضغط على الرابط التالي او امسح الباركود



للدخول الى صفحة المواد حسب المنهاج في مجمع الرياضيات اضغط هنا او امسح
الباركود

