

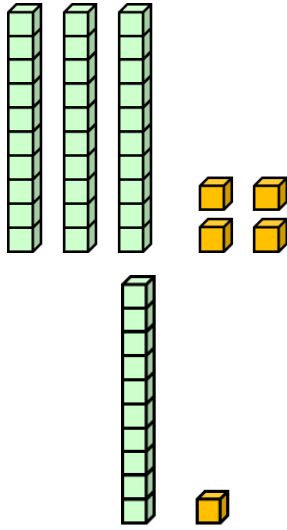


## جمع بدون تبديل في مجال الـ 100

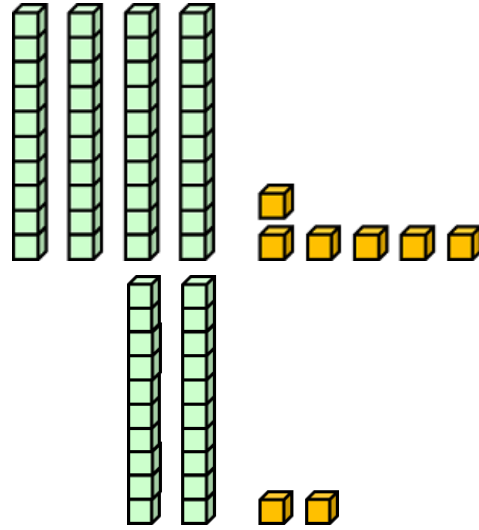
الاسم: \_\_\_\_\_ الصّف: \_\_\_\_\_

حل تمارين الجمع التّالية بواسطة التّربيعات:

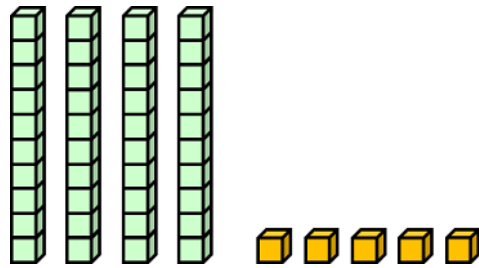
أ)  $34 + 11 = \underline{\hspace{2cm}}$



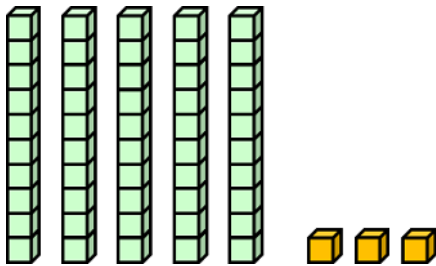
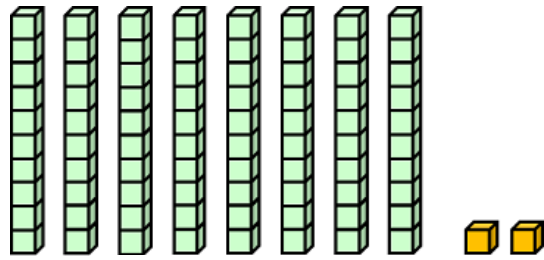
ب)  $46 + 22 = \underline{\hspace{2cm}}$



ج)  $45 + 53 = \underline{\hspace{2cm}}$



د)  $82 + 5 = \underline{\hspace{2cm}}$



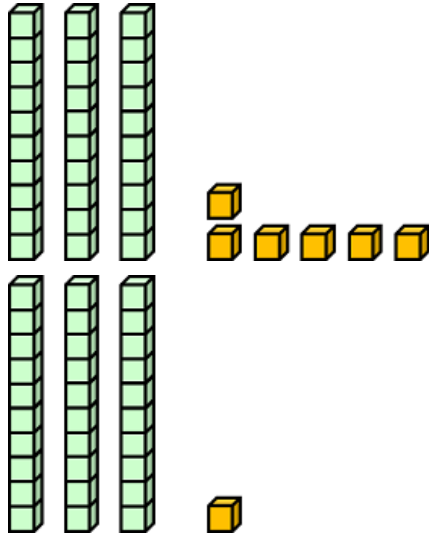


## جمع بدون تبديل في مجال الـ 100

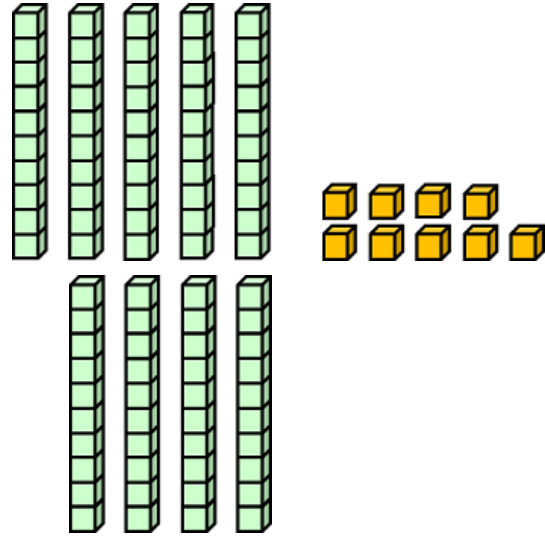
الاسم: \_\_\_\_\_ الصّف: \_\_\_\_\_

حل تمارين الجمع التّالية بواسطة التّريعات:

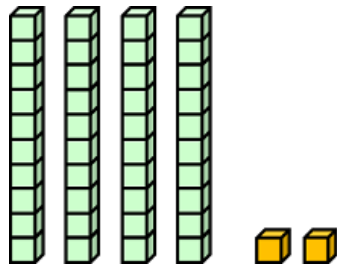
أ)  $36 + 31 = \underline{\hspace{2cm}}$



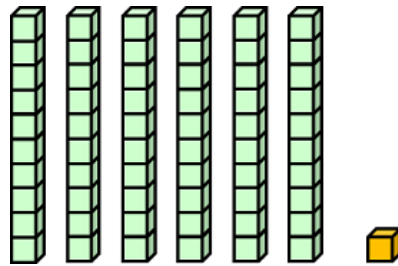
ب)  $59 + 40 = \underline{\hspace{2cm}}$



ج)  $42 + 14 = \underline{\hspace{2cm}}$



د)  $61 + 7 = \underline{\hspace{2cm}}$





للمزيد من المواد في الرياضيات انضم الى قناة مجمع الرياضيات في الواتس اب  
اضغط على الرابط التالي او امسح الباركود



للدخول الى صفحة المواد حسب المنهاج في مجمع الرياضيات اضغط هنا او امسح  
الباركود

