




الاعداد حتى 10 – للصفوف الدنيا
فعالية في العد والاحصاء

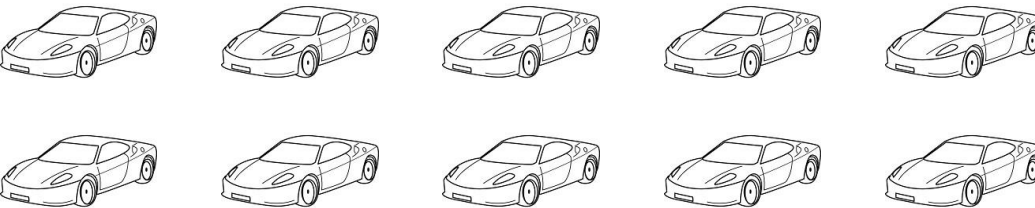
لَوْن 3 عصفير من العصفير التّالية :



لَوْن 7 وردات من الوردات التّالية :



لَوْن 10 سيّارات من السيّارات التّالية :




الاعداد حتى 10 – للصفوف الدنيا




فعالية في العد والاحصاء


لَوْن 6 حبات توت من حَبّات التّوت التّالية :



لَوْن 4 شمسيات من الشّمسيات التّالية :




لَوْن 9 قطط من القطط التّالية :






الاعداد حتى 10 – للصفوف الدنيا
فعالية في العد والاحصاء


لَوْن 2 (فراشتان) من الفراشات التّالية :



لَوْن 8 بالونات من البالونات التّالية :



لَوْن 5 تفاحات من التفاحات التّالية :





للمزيد من المواد في الرياضيات انضم الى قناة مجمع الرياضيات في الواتس اب
اضغط على الرابط التالي او امسح الباركود



للدخول الى صفحة المواد حسب المنهاج في مجمع الرياضيات اضغط هنا او امسح
الباركود

