




### حساب للصفوف الدنيا

عد واحص الأغراض في اللوحة التّالية واكمل النّاقص في الجدول :




اكمل الجدول التّالي ، كم غرض يوجد في اللوحة أعلاه من الأغراض التّالية؟






## حساب للصفوف الدنيا

عد واحص الطيور في اللوحة التّالية واكمل النّاقص في الجدول :



اكمل الجدول التّالي ، كم طير يوجد في اللوحة أعلاه من الطيور التّالية؟





للمزيد من المواد في الرياضيات انضم الى قناة مجمع الرياضيات في الواتس اب  
اضغط على الرابط التالي او امسح الباركود



للدخول الى صفحة المواد حسب المنهاج في مجمع الرياضيات اضغط هنا او امسح  
الباركود



