



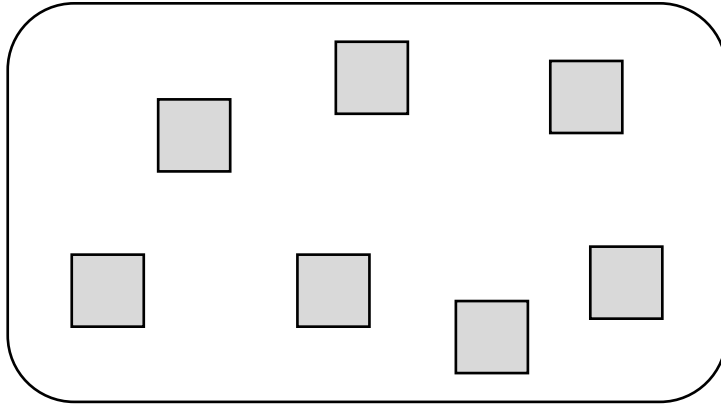
اختبار حساب للصف الأول ابتدائي  
الموضوع : الأعداد في مجال الـ 10 – عد واحصاء

الاسم الكامل : \_\_\_\_\_ : الصَّف : \_\_\_\_\_

العلامة : 20 /


اقرأ المطلوب جيّدًا قبل حل التمارين !

1. كم مُربع يوجد في اللوحة التّالية : (علامة)




الجواب : \_\_\_\_\_

2. ارسم 3 مُثلثات على اللوحة التّالية : (3 علامات)





3. ارسم 9 دوائر على اللوحة التآلية : (3 علامات)



4. عدّ واكتب العدد المناسب في كل بند : (3 علامات)



عدد السيارات : \_\_\_\_\_





عدد الفراشات : \_\_\_\_\_





عدد حبّات التوت : \_\_\_\_\_



5. كم نُقطة يوجد في كل مُربع في كل بند ؟ (4 علامات)

(أ)  العدد : \_\_\_\_\_ (ب)  العدد : \_\_\_\_\_





(ج)  العدد : \_\_\_\_\_ (د)  العدد : \_\_\_\_\_

6. ارسم نُقاط في كل مُربع بحسب العدد في كل بند ؟ (4 علامات)

(أ)  العدد : 5 (ب)  العدد : 1

(ج)  العدد : 2 (د)  العدد : 9

7. حوِّط المجموعة التي بها عدد أقلام أكثر: (علامتان)

(أ)  (ب)   
(أ)  (ب) 

بالنجاح