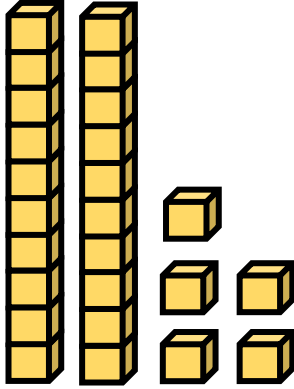


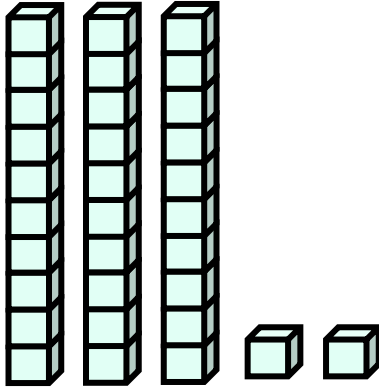



الاعداد الطبيعية في مجال الـ 50
الموضوع : المبنى العشري

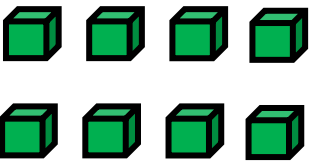
الاسم الكامل : _____ : الصَّف : _____

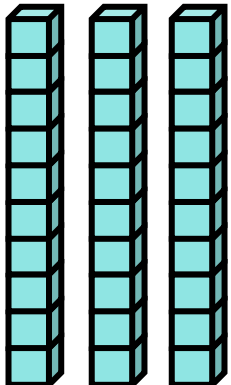
اكتب العدد بحسب التَّمثيل بواسطة تربيعات في كل بند


(أ)  =

(ب)  =

(ج)  =

(د)  =

(هـ)  =

(و)  =



الاعداد الطبيعية في مجال الـ 50
الموضوع : المبنى العشري

الاسم الكامل : _____ : الصَّف : _____

اكتب العدد بحسب التمثيل بواسطة تربيعات في كل بند

(أ) =

(ب) =

(ج) =

(د) =

(هـ) =

(و) =



للمزيد من المواد في الرياضيات انضم الى قناة مجمع الرياضيات في الواتس اب
اضغط على الرابط التالي او امسح الباركود



للدخول الى صفحة المواد حسب المنهاج في مجمع الرياضيات اضغط هنا او امسح
الباركود

