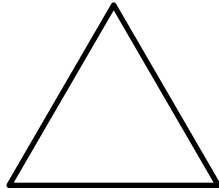


### סוגים של משולשים

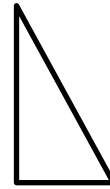
שם מלא: \_\_\_\_\_ כיתה: \_\_\_\_\_

בדוק וקבע האם המשולש בכל סעיף הוא משולש שונה צלעות, שווה שוקיים או שווה צלעות, כתוב מתחת לכל משולש מה הסוג שלו לפי הצלעות.



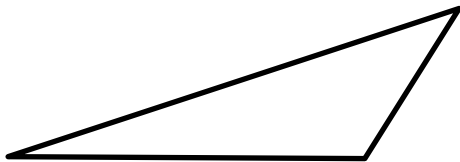
ב.

\_\_\_\_\_




א.

\_\_\_\_\_



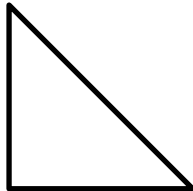
ד.

\_\_\_\_\_




ג.

\_\_\_\_\_




ו.

\_\_\_\_\_



ה.

\_\_\_\_\_



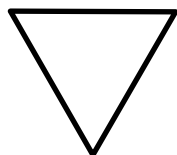
ח.

\_\_\_\_\_



ז.

\_\_\_\_\_



י.

\_\_\_\_\_



ט.

\_\_\_\_\_